

제 4 교시

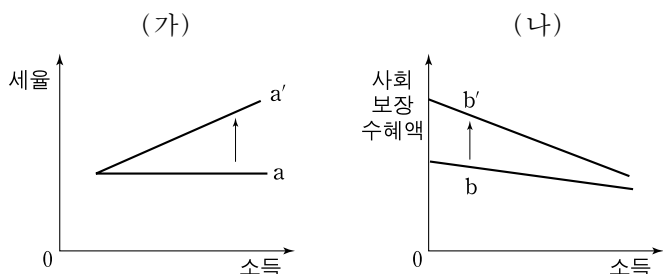
사회탐구 영역(경제)

성명

수험 번호

- 자신이 선택한 과목의 문제지인지 확인하시오.
- 문제지의 해당란에 성명과 수험 번호를 정확히 쓰시오.
- 답안지의 해당란에 성명과 수험 번호를 쓰고, 또 수험 번호와 답을 정확히 표시하시오.
- 선택한 과목 순서대로 문제를 풀고, 답은 답안지의 '제1선택'란부터 차례대로 표시하시오.
- 문항에 따라 배점이 다르니, 각 물음의 끝에 표시된 배점을 참고하시오. 3점 문항에만 점수가 표시되어 있습니다. 점수 표시가 없는 문항은 모두 2점입니다.

1. 갑국 정부는 그림 (가), (나)와 같이 정책을 a → a'와 b → b'로 바꾸려고 한다. 이러한 정책 변경의 의도로 가장 적절한 것은?



- ① 물가 안정
- ② 완전 고용 달성
- ③ 실질 GDP의 증대
- ④ 자원의 효율적 배분
- ⑤ 소득의 재분배 촉진

2. 다음 (가)~(다)와 관련하여 진술한 내용으로 적절하지 않은 것은?

(가) 물은 생존을 위해 반드시 필요한 재화로 다이아몬드보다 유용성이 더 크다. 하지만 물의 가격은 다이아몬드 가격보다 훨씬 더 낮다.
 (나) 태평양의 어느 섬에서는 망고보다 바나나가 더 많이 생산된다. 하지만 바나나가 망고보다 훨씬 높은 가격에 거래된다.
 (다) 무명 화가의 습작들은 공짜로 주어도 가져가는 사람이 거의 없다. 하지만 그 화가가 훗날 명성을 얻게 되면 사람들은 무명 시절에 그린 습작이라도 비싼 돈을 주고서 구입한다.

- ① (가)에서 다이아몬드 가격이 더 비싼 이유는 물보다 희소성이 크기 때문이다.
- ② (나)에서 바나나는 망고보다 희소성이 더 큰 재화이다.
- ③ (다)는 희소성에 따라 자유재가 경제재로 변화하는 것을 보여주는 예이다.
- ④ (나)와 (다)는 가격이 희소성에 의해 결정되지 않는음을 보여준다.
- ⑤ (가)~(다)에서 희소성은 재화의 존재량과 욕구와의 관계에서 상대적으로 결정된다.

3. 다음 글의 ㉠~㉣에 대한 설명으로 적절하지 않은 것은?

오늘날 지식이 점차 사회의 중요한 경제적 자원으로 부상하고 있다. 그런데 지식은 대부분의 경우 ㉠ 긍정적 외부 효과를 발생시킬 뿐만 아니라 ㉡ 배제성과 ㉢ 경합성이 결여된 ㉣ 공공재적 특성을 지닌다. 이와 같은 지식의 특성 때문에 ㉤ 시장 실패가 발생할 수 있다.

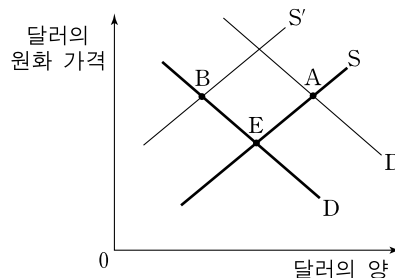
- ① 자연 과학의 발달은 ㉠을 발생시킬 수 있는 한 사례이다.
- ② 제약 회사에서 개발한 항암 치료제는 ㉡이 있다.
- ③ 디지털 음원에 대한 저작권 보호는 ㉢을 부여하기 위한 것이다.
- ④ ㉣에서는 무임승차의 문제가 발생할 수 있다.
- ⑤ 이 경우 ㉤의 문제는 사회적 최적 수준보다 과소 생산되는 것이다.

4. 다음 글에 대한 분석 및 추론으로 옳지 않은 것은? [3점]

초등학생 갑은 일주일 용돈으로 5,000원을 받는다. 갑은 용돈으로 싸과자와 MP3 파일만을 구입한다. 싸과자는 한 봉지에 1,000원이고 MP3 파일은 하나에 500원이다.

- ① 싸과자 한 봉지의 기회비용은 MP3 파일 2개이다.
- ② 부모님이 용돈을 올려 주어도 싸과자 한 봉지의 기회비용은 변함이 없다.
- ③ MP3 파일의 가격이 200원으로 하락한다면 싸과자로 표시한 MP3 파일의 기회비용은 커진다.
- ④ 용돈과 두 재화의 가격이 모두 100% 오르더라도, 갑의 두 재화에 대한 최대 구매 가능량은 변함이 없다.
- ⑤ 싸과자와 MP3의 가격이 모두 100% 오르더라도, MP3 파일로 표시한 싸과자의 기회비용은 변함이 없다.

5. 그림은 우리나라 외환 시장에서의 달러에 대한 수요 곡선과 공급 곡선이다. 균형점이 E에서 A 또는 B로 이동하게 되는 사례로 옳지 않은 것은? [3점]

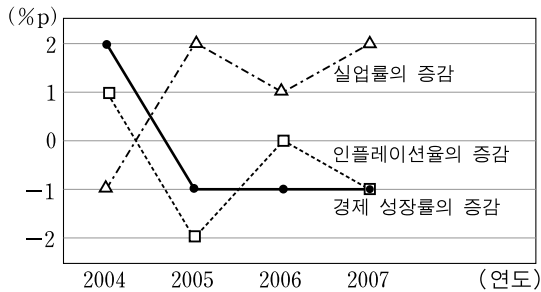


- ① E → A : 원유 가격 및 수입 원자재 가격의 상승
- ② E → A : 해외 금융 기관들이 우리나라에 투자한 자금 회수
- ③ E → A : 달러 가치 상승을 예상한 국내 수출 기업들의 환전 유보
- ④ E → B : 국제 금융 위기로 우리나라 금융 기관들의 해외 차입 감소
- ⑤ E → B : 선진국들의 소비 위축으로 우리나라 상품에 대한 수요 감소

2 사회탐구 영역 (경제)

[6~7] 다음을 보고 물음에 답하십시오.

그림은 갑국의 경제 성장률, 실업률, 인플레이션율의 전년 대비 증가를 표시하고 있다. (단, 2003년의 경제 성장률은 2%, 실업률은 6%, 인플레이션율은 2%이다.)



* %p(% 포인트)는 %의 차를 측정하는 단위이다. 예를 들어, 실업률이 6%에서 7%로 바뀌면 실업률이 1%p 높아진 것이다.

6. 위 그림에 대한 옳은 분석을 <보기>에서 고른 것은? [3점]

<보기>

- ㄱ. 경제 활동 인구의 변화가 없었다면, 2004년의 취업자 수는 2003년에 비해 증가했다.
- ㄴ. 2005년 이후에 실질 GDP는 지속적으로 감소하고 있다.
- ㄷ. 경제 성장률과 실업률은 반대 방향으로 움직이고 있다.
- ㄹ. 인플레이션율과 실업률의 합계인 국민 고통 지수는 2006년에 가장 높다.

- ① ㄱ, ㄴ ② ㄱ, ㄷ ③ ㄴ, ㄷ ④ ㄴ, ㄹ ⑤ ㄷ, ㄹ

7. 위 그림의 2007년 상황에서 갑국이 하나의 정책을 취한다고 할 때, 적절한 정책을 <보기>에서 골라 묶은 것은?

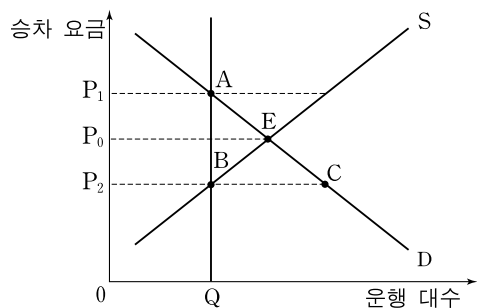
<보기>

- ㄱ. 법인세 인상 ㄴ. 재할인율 인상
- ㄷ. 국·공채 매입 ㄹ. 재정 지출 증대

- ① ㄱ, ㄴ ② ㄱ, ㄷ ③ ㄴ, ㄷ ④ ㄴ, ㄹ ⑤ ㄷ, ㄹ

8. 그림에 대한 옳은 설명을 <보기>에서 고른 것은?

○○시는 시내 버스 운행 대수를 Q로 고정시켰다. S는 규제가 없을 때의 시내 버스 서비스 공급 곡선, D는 수요 곡선이다. 시내 버스 서비스의 공급량과 수요량은 운행 대수로 표현된다.



<보기>

- ㄱ. P₂에서 초과 수요 BC가 존재한다.
- ㄴ. Q에서 초과 공급 AB가 존재한다.
- ㄷ. Q에서 수요자가 최대로 지불하려는 요금은 P₁이다.
- ㄹ. Q에서 공급자가 최대로 받으려 하는 요금은 P₂이다.

- ① ㄱ, ㄴ ② ㄱ, ㄷ ③ ㄱ, ㄹ ④ ㄴ, ㄹ ⑤ ㄷ, ㄹ

9. 그림은 갑국의 국제 수지를 나타낸 것이다. 이에 대한 분석으로 옳은 것은?

항목	연도	2005	2006	2007
경상 수지		-7	6	-47
상품 수지		13	29	-28
서비스 수지		-21	-24	-20
소득 수지		3	4	3
경상 이전 수지		-2	-3	-2
자본 수지		14	-3	53

- ① 2005년에 갑국이 해외에서 수취한 생산 요소 소득이 외국인 이 갑국에서 수취한 생산 요소 소득보다 많다.
- ② 2006년에는 자본의 유입이 유출보다 많다.
- ③ 2007년에는 상품의 수출이 수입보다 많다.
- ④ 2005~2007년 내내 외국인의 갑국 내 유학보다 갑국 국민의 해외 유학이 많다.
- ⑤ 2005~2007년 내내 아무런 대가 없이 이루어지는 무상 원조, 구호금 등으로 수취한 외화가 지급한 외화보다 많다.

10. 다음 탐구 수업에서 자료를 옳게 분석하여 발표한 학생만을 있는 대로 고른 것은?

탐구 주제 : 세금		
구분	(가)	(나)
대상(납세자/담세자)	동일함	다름
특징	조세 저항 강함 징수가 어려움	조세 저항 약함 징수가 용이함
	세율 적용 방식 과세 대상 금액이 커질수록 높은 세율 적용	과세 대상 금액에 상관없이 동일 세율 적용

위의 자료를 참고하여 각자 조사·분석한 내용을 발표해 봅시다.

갑: 세금 부과 대상(가)으로 보아 소득세는 (가)에 해당합니다.

을: 세율 적용 방식으로 보아 (나)는 비례 세율이 적용되어 세율은 과세 대상 금액에 비례합니다.

병: 세율 적용 방식으로 보아 (가)는 빈부 격차를 줄여주는 효과가 있습니다.

정: (나)가 신설되면 조세 저항이 약해 징수는 용이하지만 물가 상승을 유발할 수 있습니다.

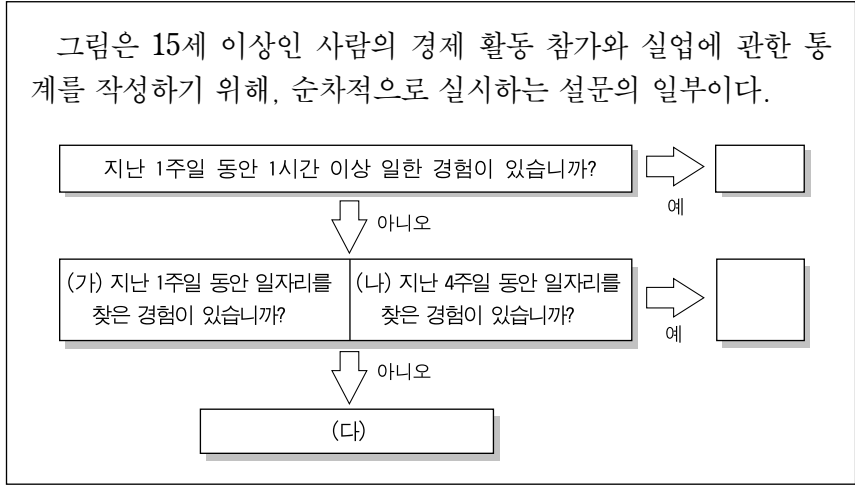
- ① 갑, 을 ② 을, 정 ③ 병, 정
 ④ 갑, 을, 병 ⑤ 갑, 병, 정

(경제)

사회탐구 영역

3

[11~12] 다음을 읽고 물음에 답하시오.



11. 위 (가)와 (나) 모두를 대상자들에게 질문하였을 때, (나)로부터 계산될 경제 활동 참가율과 실업률을 (가)로부터 계산될 결과와 비교한 것으로 가장 적절한 것은? [3점]
- ① 경제 활동 참가율은 더 높고, 실업률도 더 높다.
 - ② 경제 활동 참가율은 더 높고, 실업률은 더 낮다.
 - ③ 경제 활동 참가율은 더 높고, 실업률은 같다.
 - ④ 경제 활동 참가율은 더 낮고, 실업률도 더 낮다.
 - ⑤ 경제 활동 참가율은 더 낮고, 실업률은 같다.

12. 위 (다)에 대한 옳은 설명만을 <보기>에서 있는 대로 고른 것은?

— <보기> —

ㄱ. 임시직 노동자는 (다)에 해당된다.
 ㄴ. 학업에 전념하고 있는 대학생은 (다)에 해당된다.
 ㄷ. (다)와 경제 활동 인구의 합은 노동 가능 인구이다.
 ㄹ. (다)는 일하려는 의사와 능력은 있으나 일자리를 찾지 못한 사람이다.

- ① ㄱ, ㄴ ② ㄴ, ㄷ ③ ㄷ, ㄹ
- ④ ㄱ, ㄴ, ㄷ ⑤ ㄱ, ㄷ, ㄹ

13. 다음 글의 ㉠~㉣에 대해 옳게 설명한 학생만을 <보기>에서 있는 대로 고른 것은?

미국 정부는 ㉠자국에서 나타난 경제적 문제를 해결하기 위해 뉴딜 정책을 실시하였다. 이를 계기로, ㉡뉴딜 이전의 지배적인 경제 철학에서 형성되었던 시장과 정부 간의 관계가 근본적으로 바뀌었다. 뉴딜은 ㉢경제 정책을 통해 대공황 극복의 계기를 마련함으로써 ㉣정부 개입을 통한 경기 조절이라는 새로운 정부의 역할을 제시하였던 것이다.

— <보기> —

갑 : ㉠은 대량 실업과 인플레이션이었어.
 을 : ㉡에서는 정부 간섭의 최소화를 이상적으로 보았어.
 병 : ㉢의 과정에서 공공 사업이 확대되었어.
 정 : ㉣을 위해 뉴딜 기간 동안 총공급 확대에 주력했어.

- ① 갑, 을 ② 을, 병 ③ 병, 정
- ④ 갑, 을, 병 ⑤ 을, 병, 정

14. 표는 지난해 8월 대비 올해 8월의 미국 달러에 대한 각국의 통화 가치 변동률이다. 이 기간 동안의 변화에 대해 옳게 설명한 것만을 <보기>에서 있는 대로 고른 것은? [3점]

〈아시아 3개국 통화 가치 변동률〉

국가(화폐 단위)	변동률(%)
한국(원)	- 20.3
중국(위안)	9.1
일본(엔)	6.2

* 단, 무역 결제 수단은 달러이며, 환율 이외의 변동 요인은 없다고 가정한다.

— <보기> —

ㄱ. 원-달러 환율은 상승하고, 엔-달러 환율은 하락하였다.
 ㄴ. 중국에서 한국 상품의 가격 경쟁력이 일본 상품에 비해 강화되었다.
 ㄷ. 달러로 환전하여 일본 유학을 가려는 중국 유학생의 부담은 증가하였다.
 ㄹ. 작년 8월에 대출받은 엔화 자금을 상환하는 국내 거주 한국인은 환율의 변동으로 이익을 보았다.

- ① ㄱ, ㄴ ② ㄴ, ㄷ ③ ㄷ, ㄹ
- ④ ㄱ, ㄴ, ㄷ ⑤ ㄱ, ㄷ, ㄹ

15. 표는 우리나라의 소득 분배 구조를 보여주고 있다. 이에 대한 옳은 해석을 <보기>에서 고른 것은? [3점]

분류 기준	계층	1996년	2006년
(가) 중산층을 중위 소득*의 50~150%인 가구로 정의했을 때의 소득 계층 비중(%)	빈곤층	11.2	17.9
	중산층	68.5	58.5
	상류층	20.3	23.6

분류 기준	계층	1996년	2006년
(나) 계층을 가구 소득에 따라 10분위로 나누었을 때의 소득 계층별 소득 점유 비중(%)	하위 20% 계층	7.9	5.7
	중위 60% 계층	54.3	54.7
	상위 20% 계층	37.8	39.6

* 중위 소득 : 가구를 소득 순으로 나열할 때, 한 가운데 가구의 소득

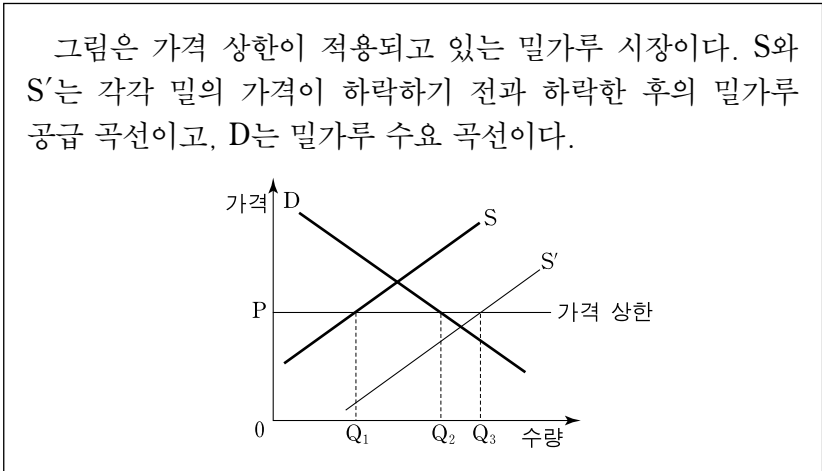
— <보기> —

ㄱ. (가) 기준 빈곤층 중 일부가 (나) 기준의 중위 60% 계층에 포함된다.
 ㄴ. 1996년에 (가) 기준 빈곤층의 소득 점유 비중은 (나) 기준 하위 20% 계층의 소득 점유 비중보다 낮다.
 ㄷ. 2006년에 (가) 기준 상류층의 소득 점유 비중은 (나) 기준 상위 20% 계층의 소득 점유 비중보다 낮다.
 ㄹ. 1996년에 비해 2006년에는 (가) 기준 중산층에 속하면서 (나) 기준 하위 20% 계층에 속하는 가구 비중은 줄었다.

- ① ㄱ, ㄴ ② ㄱ, ㄷ ③ ㄴ, ㄷ ④ ㄴ, ㄹ ⑤ ㄷ, ㄹ

4 사회탐구 영역 (경제)

16. 다음 자료에 대한 분석으로 옳은 것은?



- ① 가격 상한의 예로 최저 임금제가 있다.
- ② 밀 가격 하락 후, 밀가루의 암시장 거래량은 증가한다.
- ③ 밀 가격 하락 후, 밀가루 시장의 균형 거래량은 Q₃이다.
- ④ 밀 가격의 변화와 상관없이 밀가루는 가격 P에서 거래된다.
- ⑤ 밀 가격 하락 전, 밀가루의 초과 수요가 Q₁~Q₂ 만큼 존재한다.

17. 갑국 사례가 정설에 모순되지 않는다는 것을 설명하기 위해, 두 기간 사이에 비교 조사해야 할 항목으로 적절하지 않은 것은? [3점]

○ 정설 : 다른 조건이 일정하다면, 유가와 사람들이 구입하는 승용차의 평균 연비 간에는 정(+)의 관계가 있다.
 ○ 갑국 사례 : 2005년의 유가가 1975년에 비해 3배 높아졌다. 1975년에는 연비가 높아 경제적인 소형 승용차가 인기였으나, 2005년에는 소형 승용차보다 연비가 낮고 가격이 비싸지만 안전성이 높은 중대형 승용차가 인기이다.
 * 연비 : 연료 1리터로 주행할 수 있는 거리(km/l)

- ① 물가 상승률과 유가 상승률
- ② 소득 대비 승용차 가격 비율
- ③ 승용차의 안전성에 대한 소비자 선호도
- ④ 소형 승용차와 중대형 승용차의 부품 판매량
- ⑤ 승용차 연료비 지출이 소득에서 차지하는 비중

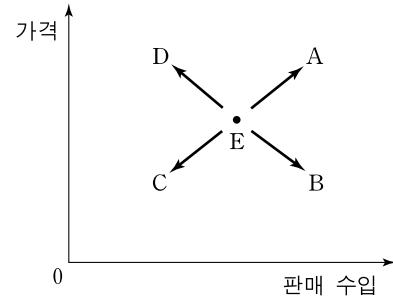
18. 표에 대한 분석 및 추론으로 옳지 않은 것은? (단, 갑국의 인구 수와 인구 구조는 안정적이었고, 경제는 꾸준히 성장했다.) [3점]

〈갑국의 산업별 실질 GDP 및 취업자의 구성비 추이〉

구분		1975년	1990년	2005년
1차 산업	실질 GDP 구성비(A, %)	27	8	3
	취업자 구성비(B, %)	50	18	9
	A/B	0.5	0.4	0.3
2차 산업	실질 GDP 구성비(C, %)	22	35	34
	취업자 구성비(D, %)	17	35	27
	C/D	1.3	1.0	1.3
3차 산업	실질 GDP 구성비(E, %)	51	57	63
	취업자 구성비(F, %)	33	47	64
	E/F	1.5	1.2	1.0

- ① 1차 산업의 비중은 지속적으로 감소해 왔다.
- ② 1차 산업에서 취업자 1인당 실질 GDP는 감소해 왔다.
- ③ 2005년의 취업자 1인당 실질 GDP는 2차 산업에서 가장 높다.
- ④ 3차 산업의 취업자 수는 증가해 왔다.
- ⑤ 3차 산업의 실질 GDP는 증가해 왔다.

19. 그림은 어떤 재화의 가격과 판매 수입을 나타낸 것이다. E에서 A~D 방향으로의 변화에 대한 옳은 설명을 <보기>에서 고른 것은? [3점]

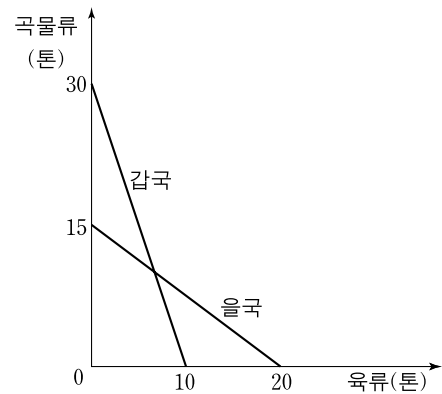


〈보기〉

- ㄱ. 보완재의 가격이 상승할 때, A 방향으로 이동한다.
- ㄴ. 생산 기술이 진보하고 수요의 가격 탄력성이 1보다 클 때, B 방향으로 이동한다.
- ㄷ. 대체재의 가격이 하락할 때, C 방향으로 이동한다.
- ㄹ. 원료 가격이 상승하고 수요의 가격 탄력성이 1보다 작을 때, D 방향으로 이동한다.

- ① ㄱ, ㄴ ② ㄱ, ㄷ ③ ㄴ, ㄷ ④ ㄴ, ㄹ ⑤ ㄷ, ㄹ

20. 그림은 교역 이전 갑국과 을국이 생산 가능한 육류와 곡물류의 조합을 나타낸 것이다. 양국 간에 교역이 이루어질 때, 이에 대한 분석으로 옳은 것은? (단, 생산 요소는 노동뿐이고 양국에서 투입 가능한 노동의 양은 동일하다고 가정한다.) [3점]



- ① 갑국은 곡물류 생산에 절대 우위는 있으나 비교 우위는 없다.
- ② 두 나라의 교역 조건은 생산 가능 곡선이 만나는 점에서 결정된다.
- ③ 교역 이후 을국의 곡물류에 대한 육류의 기회비용은 교역 이전보다 크다.
- ④ 교역 조건이 곡물류 3톤에 육류 2톤일 때, 갑국은 육류 12톤과 곡물류 15톤을 소비할 수 있다.
- ⑤ 교역 조건이 곡물류 4톤에 육류 5톤일 때, 을국은 육류 6톤과 곡물류 12톤을 소비할 수 있다.

* 확인 사항

- 답안지의 해당란에 필요한 내용을 정확히 기입(표기)했는지 확인하시오.