

2009학년도 대학수학능력시험 문제지

직업탐구 영역(회계 원리)

제 4 교시

성명 수험 번호

- 자신이 선택한 과목의 문제지인지 확인하시오.
- 문제지의 해당란에 성명과 수험 번호를 정확히 쓰시오.
- 답안지의 해당란에 성명과 수험 번호를 쓰고, 또 수험 번호와 답을 정확히 표시하시오.
- 선택한 과목 순서대로 문제를 풀고, 답은 답안지의 '제1선택'란부터 차례대로 표시하시오.
- 문항에 따라 배점이 다르니, 각 물음의 끝에 표시된 배점을 참고하시오. 3점 문항에만 점수가 표시되어 있습니다. 점수 표시가 없는 문항은 모두 2점입니다.

1. 다음 회계 장부의 (가), (나)에 들어갈 용어에 대한 설명으로 옳은 것만을 <보기>에서 있는 대로 고른 것은?

(가)

날짜	적 요	원면	차변	대변
1 5	(현 금)	1	1,000,000	
	(자 본 금)	19		1,000,000
현금을 출자하여 사업을 개시				
12	(토 지)	12	800,000	
	(현 금)	1		500,000
	(당좌예금)	2		300,000
업무용 토지 구입				

<보기>

- ㄱ. (가)는 재무제표 중의 하나이다.
- ㄴ. (가)는 회계상 거래의 분개를 기입하는 장부이다.
- ㄷ. (나)는 자산을 구입하고 대금은 전액 수표를 발행하여 지급한 거래를 기입할 때 사용한다.

- ① ㄱ ② ㄴ ③ ㄱ, ㄷ
- ④ ㄴ, ㄷ ⑤ ㄱ, ㄴ, ㄷ

2. 그림은 자산의 감가상각에 대한 수업 장면이다. 학습 목표에 따라 바르게 발표한 학생을 고른 것은?



- ① 영희, 명수 ② 영희, 지영 ③ 명수, 지영
- ④ 명수, 철수 ⑤ 지영, 철수

3. 다음은 연속된 [거래]와 그 [분개]를 나타낸 것이다. (가)를 대차대조표에 통합 계정과목으로 표시할 때 옳은 것은?

[거래]

10월 1일 거래은행에 건물을 담보로 ₩1,000,000 한도의 당좌차월 계약을 맺고, 현금 ₩500,000을 당좌 예입하다.

10월 2일 업무용 비품 ₩700,000을 구입하고 대금은 수표를 발행하여 지급하다.

[분개]

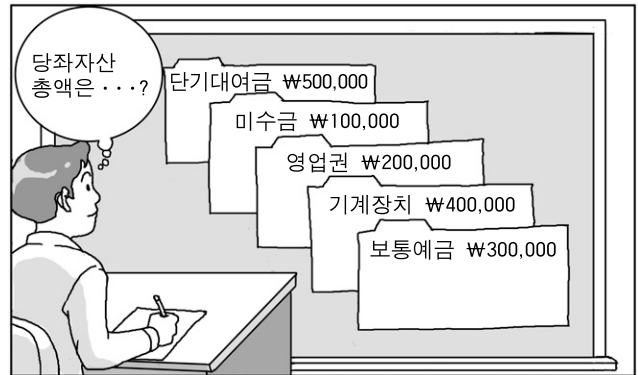
10월 1일 (차변) 당좌예금 500,000 (대변) 현 금 500,000

10월 2일 (차변) 비 품 700,000 (대변) 당좌예금 500,000

(가) 200,000

- ① 미결산 ② 미수금 ③ 단기차입금
- ④ 미지급이자 ⑤ 외상매입금

4. 그림은 자산에 대한 계정과목과 금액을 나타낸 것이다. 이를 근거로 당좌자산 총액을 계산한 것으로 옳은 것은?



- ① ₩600,000 ② ₩800,000 ③ ₩900,000
- ④ ₩1,000,000 ⑤ ₩1,100,000

5. 다음은 ○○기업 회의록의 일부이다. 회의 결과를 수행했을 때 자산 항목 금액의 증감 변화를 설명한 것으로 옳은 것은? [3점]

회의록		계	부장	대표이사
		홍길동	김한국	이여환
회의주제	당사 보유자금 운용방안 협의			
내용	○ 당사 보유자금의 운용현황과 주 거래 은행이 제안한 장기성 정기예금 상품에 대하여 경리부장이 설명함. (이하 생략)			
회의 결과	○ 당사의 요구불 예금을 인출하여 안정적인 수익을 보장하는 3년 만기의 정기예금에 예치하기로 결정함.			

- ① 당좌자산은 감소하고 유형자산이 증가한다.
- ② 당좌자산은 감소하고 투자자산이 증가한다.
- ③ 무형자산은 감소하고 투자자산이 증가한다.
- ④ 무형자산은 증가하고 재고자산이 감소한다.
- ⑤ 재고자산은 증가하고 유형자산이 감소한다.

2 직업탐구 영역 (회계 원리)

6. 다음은 이익잉여금처분계산서의 일부를 나타낸 것이다. 상법 규정에 의해 (가)에 들어갈 최소 한도액으로 옳은 것은? (단, 자본금은 1억 원, 전기말까지의 이익준비금 누계액은 1천만 원이다.) [3점]

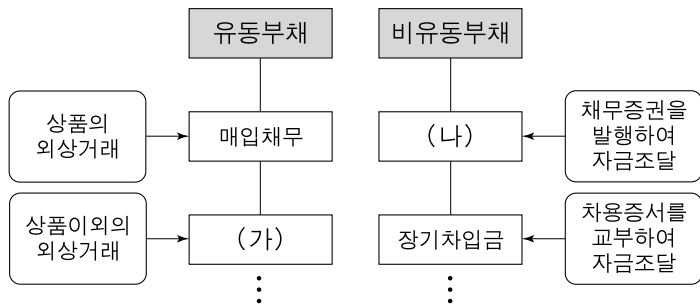
이익잉여금처분계산서
제5기 2007년 1월 1일부터 2007년 12월 31일까지
처분확정일 : 2008년 3월 15일 (단위 : 원)

과목	제5(당)기	제4(전)기
	금액	금액
이익잉여금처분액		
이익준비금	(가)	(생략)
재무구조개선적립금	1,000,000	
현금배당	800,000	
감채적립금	700,000	
차기이월미처분이익잉여금	100,000	

* 기업회계기준서 제21호(2006.12.31. 이후부터 시행) 전에는 이익잉여금처분계산서 과목란의 계정과목 번호를 표기하였으며, 차기이월미처분이익잉여금은 차기이월이익잉여금으로 표기하였다.

- ① ₩10,000 ② ₩70,000 ③ ₩80,000
④ ₩100,000 ⑤ ₩250,000

7. 그림은 부채의 분류를 나타낸 것이다. (가), (나)에 들어갈 계정 과목으로 옳은 것은?



* 기업회계기준서 제21호(2006.12.31. 이후부터 시행) 전에는 비유동부채를 고정부채로 분류하였다.

- | | |
|--------|------|
| (가) | (나) |
| ① 가수금 | 사채 |
| ② 가수금 | 선수금 |
| ③ 예수금 | 지급어음 |
| ④ 미지급금 | 사채 |
| ⑤ 미지급금 | 지급어음 |

8. 그림은 전표 회계와 관련된 수업 장면이다. 선생님의 질문에 바르게 대답한 학생만을 있는 대로 고른 것은?



- ① 용현 ② 슬기 ③ 용현, 현철
④ 슬기, 현철 ⑤ 용현, 슬기, 현철

9. 다음은 [결산 방법]과 [결산 계정 기입 예시]의 일부를 나타낸 것이다. (가)~(다)의 계정과목에 대한 설명으로 옳은 것만을 <보기>에서 있는 대로 고른 것은? [3점]

[결산 방법]

결산시 현금 수입이 원장 각 계정에 기입되었다 할지라도, 차기에 속하는 부분은 차기로 이월하고 수익계정에서 소멸시켜야 한다. 그리고 이월된 계정은 차기연도 기초에 개시분개를 해야 한다.

[결산 계정 기입 예시]

입대료		선수입대료	
12/31 (가)	30,000	9/1 현금	50,000
12/31 (나)	20,000		
	<u>50,000</u>		<u>50,000</u>
		1/1 선수입대료	30,000
선수입대료			
12/31 차기이월	<u>30,000</u>	12/31 입대료	<u>30,000</u>
1/1 (다)	30,000	1/1 전기이월	30,000

<보기>

- ㄱ. (가)는 자본금 계정에 대체되는 계정이다.
ㄴ. (나)는 수익과 비용을 모아 놓는 집합 계정이다.
ㄷ. (다)는 자산 계정에 대체되는 계정이다.

- ① ㄱ ② ㄴ ③ ㄱ, ㄷ
④ ㄴ, ㄷ ⑤ ㄱ, ㄴ, ㄷ

10. 다음은 손익계산서의 일부를 설명한 것이다. 분개할 때 (가), (나)에 해당하는 계정과목이 나타나는 거래로 옳은 것을 <보기>에서 고른 것은?

- (가) 기업의 주된 영업 활동이 아닌 활동으로부터 발생한 수익과 차익으로서 중단사업손익에 해당하지 않는 것으로 한다.
(나) 기업의 주된 영업 활동이 아닌 활동으로부터 발생한 비용과 차손으로서 중단사업손익에 해당하지 않는 것으로 한다.

* 중단사업손익은 기업회계기준서 제21호(2006.12.31. 이후부터 시행)에 의해 손익계산서의 기본구조에 추가되었다.

<보기>

- ㄱ. 상품 ₩30,000을 반품하고 대금은 현금으로 받다.
ㄴ. 본사 경리부 회식비 ₩200,000을 현금으로 지급하다.
ㄷ. 보유 중인 주식의 배당금 ₩250,000을 현금으로 받다.
ㄹ. 차입금에 대한 이자 ₩400,000을 현금으로 지급하다.

- | | | | |
|-----|-----|-----|-----|
| (가) | (나) | (가) | (나) |
| ① ㄱ | ㄴ | ② ㄱ | ㄹ |
| ③ ㄷ | ㄱ | ④ ㄷ | ㄴ |
| ⑤ ㄷ | ㄹ | | |

(회계 원리)

직업탐구 영역

3

11. 그림은 어음과 관련된 거래를 나타낸 것이다. '갑' 기업의 입장에서 10월 7일 거래를 분개할 때 차변과 대변의 계정과목으로 옳은 것은? (단, 상품은 3분법에 의해 분개하고, 어음의 배서 양도는 매각 거래로 처리하며, 우발 채무는 기장하지 않는다.) [3점]

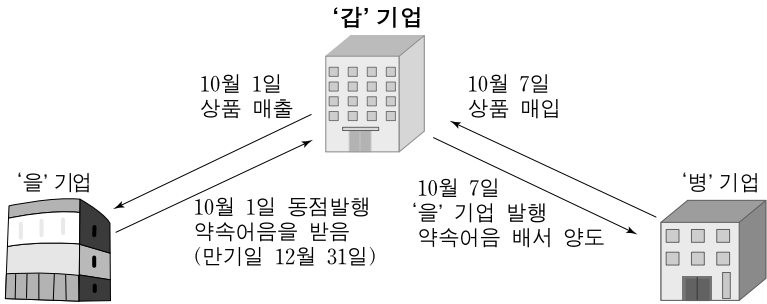


Table with 2 columns: 차변의 계정과목, 대변의 계정과목. Options include ① 매입, ② 매출, ③ 상품, ④ 현금, ⑤ 차입.

12. 다음은 △△(주)의 영업실적과 관련된 기사이다. 밑줄 친 부분에 해당하는 내용으로 옳지 않은 것은?

내수를 전문으로 하는 제조 기업인 △△(주)의 관계자는 '2분기 매출액은 15억 원으로 전 분기 대비 9.8% 증가하였으나 영업이익은 3억 원으로 30.4% 감소하였다.'고 밝혔다. 이 회사의 영업이익 감소는 제품 제조원가의 증가와 제품의 판매 활동 및 기업의 관리 유지를 위한 비용 증가가 원인으로 밝혀졌다.

- ① 접대비의 증가, ② 통신비의 증가, ③ 외환차손의 증가, ④ 감가상각비의 증가, ⑤ 광고선전비의 증가

13. 그림은 상품 매매와 관련된 대화이다. 이를 바탕으로 10월 중 매출총이익을 계산한 것으로 옳은 것은? [3점]



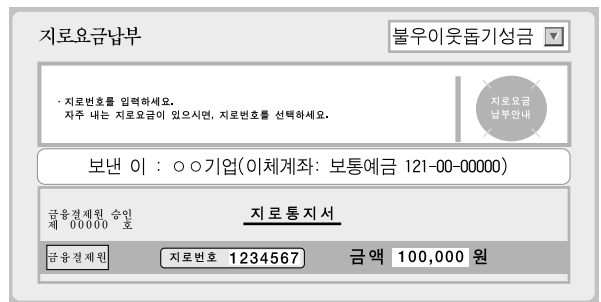
- ① ₩500,000, ② ₩1,000,000, ③ ₩1,500,000, ④ ₩2,000,000, ⑤ ₩3,000,000

14. 다음 자료를 회계 처리할 때 (가), (나)에 전기할 내용으로 옳은 것은? [3점]

- 매출채권 기말잔액은 ₩1,000,000이다.
○ 대손충당금 기말잔액은 ₩15,000이다.
○ 결산일(12월 31일)을 맞이하여 매출채권에 대한 3%의 대손을 설정하다.

Table titled '대손상각비' with columns for (가) and (나) and rows for ① 대손충당금, ② 외상매출금, ③ 대손충당금환입.

15. 그림은 ○○기업이 인터넷 지로를 이용하여 계좌 이체하였을 때의 화면이다. 이를 분개한 것으로 옳은 것은?



- ① (차변) 기부금 100,000 (대변) 현금 100,000
② (차변) 기부금 100,000 (대변) 보통예금 100,000
③ (차변) 접대비 100,000 (대변) 현금 100,000
④ (차변) 세금과공과 100,000 (대변) 현금 100,000
⑤ (차변) 세금과공과 100,000 (대변) 보통예금 100,000

16. 다음은 수정전 잔액시산표의 비용만을 나타낸 것이다. 결산 정리 사항을 반영한 후의 비용 총액으로 옳은 것은? [3점]

Table titled '잔액시산표(수정전)' with columns for 차변, 원면, 계정과목, and 대변. It lists expenses like '생략', '보험료', '이자', '보험료 선급분', etc.

결산 정리 사항(결산일 : 12월 31일)
○ 보험료 선급분 ₩70,000 계상
○ 이자 미지급분 ₩30,000 계상

- ① ₩600,000, ② ₩620,000, ③ ₩650,000, ④ ₩690,000, ⑤ ₩720,000

4 직업탐구 영역 (회계 원리)

17. 다음은 대차대조표의 자본부분을 간략히 나타낸 것이다. (가)의 금액에 영향을 미치는 거래만을 <보기>에서 있는 대로 고른 것은? (단, 자본거래에 따른 비용은 없으며, 그 밖의 자본 관련 거래와 내용은 고려하지 않는다.) [3점]

대차대조표(계정식)

○○(주) 제×기 200×년 12월 31일 현재 (단위: 원)

자산	금액	부채 및 자본	금액
		부채총계	×××
		자본	×××
		자본금	×××
		(가)	×××
		자본조정	×××
		기타포괄손익누계액	×××
		이익잉여금	×××
		자본총계	×××
자산총계	×××	부채 및 자본총계	×××

* 기타포괄손익누계액은 기업회계기준서 제21호(2006.12.31. 이후부터 시행)에 의해 추가되었다.

<보기>

- ㄱ. 자기주식 중 300주(장부가액@₩15,000)를 @₩10,000에 매각하고 대금은 당좌예금하다.
- ㄴ. 주식 1,000주(액면@₩5,000)를 @₩6,000에 발행하고 납입금은 전액 당좌예금하다.
- ㄷ. 사업규모 축소를 위해 발행주식 중 500주(액면@₩5,000)를 1주당 ₩4,000에 수표를 발행하여 매입 소각하다.

- ① ㄱ ② ㄴ ③ ㄱ, ㄷ
- ④ ㄴ, ㄷ ⑤ ㄱ, ㄴ, ㄷ

18. 다음은 개인기업인 ○○상회의 수정전 잔액시산표 일부와 손익 계정이다. 이를 통해 알 수 있는 내용으로 옳은 것을 <보기>에서 고른 것은? [3점]

잔액시산표(수정전)

○○상회 200×년 12월 31일 (단위: 원)

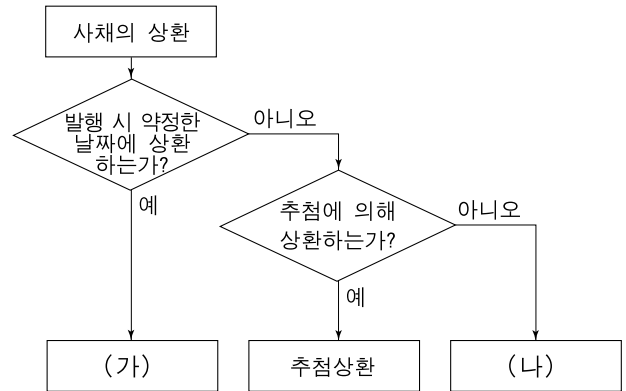
차변	원면	계정과목	대변
300,000		현금	
400,000		외상매출금	
1,000,000	생	이월상품	
800,000	락	비외상매입금	500,000
		단기차입금	1,000,000
		자본	800,000
∴		∴	∴
손익			
매입	900,000	매출	1,300,000
급여	200,000	수수료수익	100,000
이자비용	100,000		
자본금	200,000		
	1,400,000		1,400,000

<보기>

- ㄱ. 당기순이익은 ₩400,000이다.
- ㄴ. 기말자본금은 ₩1,000,000이다.
- ㄷ. 당기상품총매입액은 ₩900,000이다.
- ㄹ. 기초상품재고액은 ₩1,000,000이다.

- ① ㄱ, ㄴ ② ㄱ, ㄷ ③ ㄴ, ㄷ
- ④ ㄴ, ㄹ ⑤ ㄷ, ㄹ

19. 그림은 사채의 상환 방법을 분류하여 나타낸 것이다. (가), (나)에 대한 설명으로 옳은 것만을 <보기>에서 있는 대로 고른 것은? [3점]



<보기>

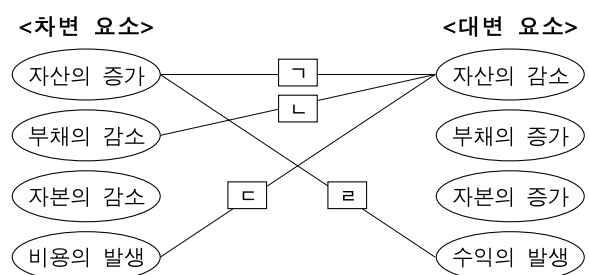
- ㄱ. (가)는 만기일에 상환 대상이 되는 사채를 액면가액으로 상환한다.
- ㄴ. (나)는 만기일 이후에 상환 대상이 되는 사채를 시가로 매입하여 상환한다.
- ㄷ. (나)는 사채할인발행차금 미상각 잔액이 있을 때 사채 상환액에 비례하는 만큼 상각한다.

- ① ㄱ ② ㄴ ③ ㄱ, ㄷ
- ④ ㄴ, ㄷ ⑤ ㄱ, ㄴ, ㄷ

20. 그림의 대화에 나타난 거래를 분개할 때 거래 요소의 결합 관계로 옳은 것을 <보기>에서 고른 것은?



<보기>



- ① ㄱ, ㄴ ② ㄱ, ㄷ ③ ㄴ, ㄷ
- ④ ㄴ, ㄹ ⑤ ㄷ, ㄹ

* 확인 사항
○ 답안지의 해당란에 필요한 내용을 정확히 기입(표기)했는지 확인 하시오.