

2009학년도 대학수학능력시험 문제지

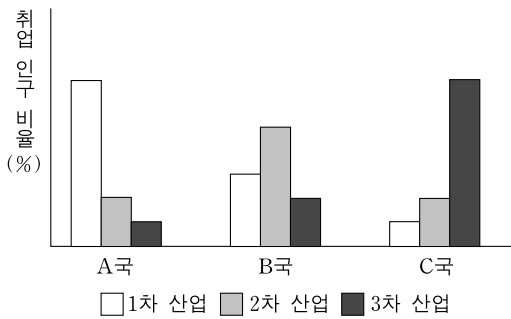
직업탐구 영역(상업경제)

제 4 교시

성명 [] 수험 번호 []

- 자신이 선택한 과목의 문제지인지 확인하시오.
○ 문제지의 해당란에 성명과 수험 번호를 정확히 쓰시오.
○ 답안지의 해당란에 성명과 수험 번호를 쓰고, 또 수험 번호와 답을 정확히 표시하시오.
○ 선택한 과목 순서대로 문제를 풀고, 답은 답안지의 '제1선택'란부터 차례대로 표시하시오.
○ 문항에 따라 배점이 다르니, 각 물음의 끝에 표시된 배점을 참고하시오. 3점 문항에만 점수가 표시되어 있습니다. 점수 표시가 없는 문항은 모두 2점입니다.

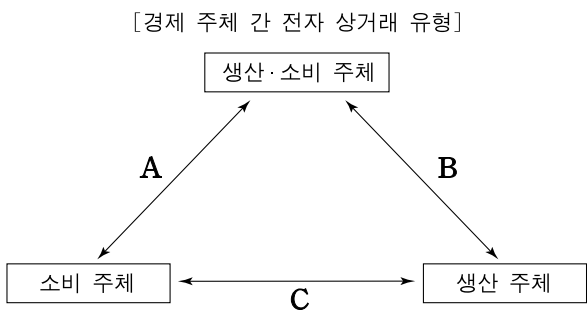
1. 그래프는 산업별 취업 인구 비율을 나타낸 것이다. 이에 대한 설명으로 옳지 않은 것은?



- ① A국은 후진국형 산업 구조이다.
② B국은 농림·어업 등이 속하는 산업의 비중이 가장 높다.
③ C국은 금융업 등이 속하는 산업의 비중이 가장 높다.
④ B국은 C국에 비해 제조업 등이 속하는 산업의 비중이 높다.
⑤ 경제가 발전할수록 A, B, C국 유형의 순으로 산업 구조가 변한다.

2. 다음 (가), (나)의 사례에 해당하는 전자 상거래 유형으로 옳은 것을 그림의 A~C에서 고른 것은?

(가) 김○○씨는 인터넷 쇼핑몰에서 휴대 전화를 구입하고, 신용카드를 대금을 결제하였다.
(나) △△전자(주)는 업무용 컴퓨터 1,000대를 전자 입찰을 통하여 조달청에 납품하였다.



- (가) (나)
① A B
② A C
③ B A
④ C A
⑤ C B

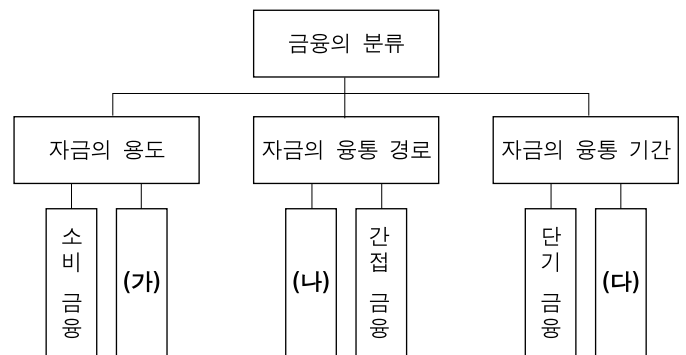
3. 다음은 탄소 캐쉬백 제도 도입에 관한 내용이다. 이를 시행했을 때 나타날 수 있는 경제 현상으로 적절한 것만을 <보기>에서 있는 대로 고른 것은?

탄소 캐쉬백 제도 도입
탄소 캐쉬백 제도란 에너지 절약형 저탄소 제품의 구매를 장려하는 시민 구매 행동 인센티브 제도이다. 현재 이 제도는 서울 강남구와 경기도, 제주도 등에서 도입했고, 2010년에는 전국적으로 도입할 예정이다.
또한, 정부는 이 제도에 참여하는 제조사들에게 다양한 인센티브를 제공할 예정이다.
-○○신문, 2008년 8월 26일자-

<보기>
ㄱ. 저탄소 제품에 대한 수요가 점차 증가할 것이다.
ㄴ. 교토의정서를 준수하는 기업들이 점차 증가할 것이다.
ㄷ. 경제 주체들의 온실 가스 배출량이 점차 증가할 것이다.

- ① ㄱ ② ㄷ ③ ㄱ, ㄴ
④ ㄴ, ㄷ ⑤ ㄱ, ㄴ, ㄷ

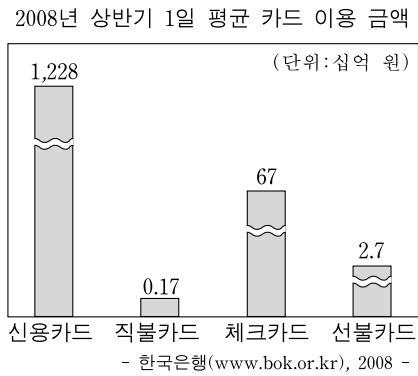
4. 다음은 금융을 세 가지 기준으로 분류한 것이다. (가)~(다)에 해당하는 내용을 모두 포함하고 있는 사례로 옳은 것은? [3점]



- ① 공장 건설을 위해 5년 만기 회사채 발행으로 자금을 조달하다.
② 결혼 자금을 마련하기 위해 3년간 보유한 주식을 매각하다.
③ 내 집 마련을 위해 금융 기관에서 10년 상환 조건으로 대출을 받다.
④ 제품 개발을 위해 금융 기관에서 3년 상환 조건으로 담보 대출을 받다.
⑤ 회사 직원의 임금 지급을 위해 은행에서 6개월 상환 조건으로 자금을 차입하다.

2 직업탐구 영역 (상업경제)

5. 그래프는 우리나라의 1일 평균 카드 이용 금액이다. 이에 대한 설명으로 옳은 것은?



- ① 선급 형태의 카드 이용 금액 비중이 가장 높다.
- ② 후급 형태의 카드 이용 금액이 상환급 형태보다 많다.
- ③ 할부 구매가 가능한 카드의 이용 금액은 2.87(십억 원)이다.
- ④ 일정액의 현금을 주고 구입한 카드의 이용 금액이 가장 적다.
- ⑤ 예금 잔고 한도 내에서 사용 가능한 카드의 이용 금액은 1,228(십억 원)이다.

6. 다음은 국제 무역 기구와 경제 통합 유형에 대해 설명한 것이다. (가), (나)에 해당하는 내용으로 옳은 것은?

| | |
|-----|--|
| (가) | <ul style="list-style-type: none"> ○ 출범 연도 : 1995년 ○ 목 적 : 다자 간 무역 체제 구축을 통한 세계 교역 증진 ○ 기 능 : 무역 분쟁 조정 등에 법적 권한과 구속력 행사 |
| FTA | <ul style="list-style-type: none"> ○ 특 징 : 양국 간 또는 지역 간 무역 협정 ○ 내 용 : (나) ○ 우리 나라 체결 현황 : 한·칠레, 한·싱가폴, 한·EFTA 등 |

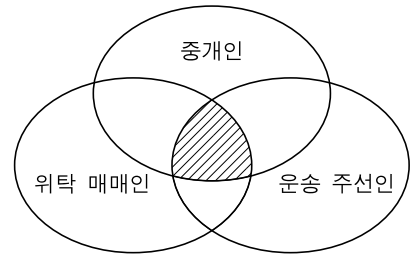
- | | |
|-------|-------------------|
| (가) | (나) |
| ① IMF | 회원국 간 관세 인하 및 철폐 |
| ② IMF | 회원국 간 공동 경제 정책 수립 |
| ③ WTO | 회원국 간 관세 인하 및 철폐 |
| ④ WTO | 회원국 간 공동 경제 정책 수립 |
| ⑤ WTO | 비회원국에 대해 공동 관세 적용 |

7. 다음은 통화 신용 정책이 경제에 미치는 영향을 나타낸 것이다. (가)~(다)에 들어갈 내용으로 옳은 것은?

한국은행은 경기 침체를 해소하기 위한 방안의 일환으로 국·공채를 (가)하기로 했다. 이로 인해 시중 자금이 (나)하고 민간 투자와 소비가 (다)하여 경기가 회복될 것으로 기대하고 있다.

- | | | |
|------|-----|-----|
| (가) | (나) | (다) |
| ① 매입 | 증가 | 증가 |
| ② 매입 | 증가 | 감소 |
| ③ 매입 | 감소 | 증가 |
| ④ 매각 | 감소 | 감소 |
| ⑤ 매각 | 감소 | 증가 |

8. 그림의 빗금 친 부분은 각 보조 상인의 공통된 특성을 나타낸 것이다. 빗금 친 부분에 해당하는 내용으로 옳은 것만을 <보기>에서 있는 대로 고른 것은? [3점]



— <보기> —

ㄱ. 불특정 다수를 대상으로 거래한다.
 ㄴ. 거래상의 명의를 자기 명의로 한다.
 ㄷ. 보수는 거래 당사자 쌍방으로부터 받는다.

- ① ㄱ
- ② ㄷ
- ③ ㄱ, ㄴ
- ④ ㄴ, ㄷ
- ⑤ ㄱ, ㄴ, ㄷ

9. 다음 기사에 나타난 해외 시장 진출 방식에 대한 설명으로 옳은 것은? [3점]

기술 이전이나 특허권, 저작권 등을 통한 해외 시장 진출이 증가하고 있다. 일본의 경우, 하나의 애니메이션으로 수천 억 엔의 매출을 올렸고, 영국에서는 영화, 게임, 각종 캐릭터로 수십 억 달러의 수익을 창출하고 있다. 우리나라도 영화와 애니메이션 분야에서 이 방식의 해외 진출이 증가하고 있어 그에 따른 수익이 기대되고 있다.

- ○○신문, 2008년 9월 2일자 -

- ① 유형 재화를 거래 대상으로 한다.
- ② 특정 기업의 경영을 대행하는 형태이다.
- ③ 계약 상대 기업에 대한 경영 참가를 목적으로 한다.
- ④ 해외의 현지 기업에게 자사 제품을 생산하게 하는 형태이다.
- ⑤ 기업이 보유한 권리나 노하우를 제공하고 대가를 받는 형태이다.

10. 다음은 농산물의 유통 사례를 나타낸 것이다. 이에 대한 설명으로 옳은 것을 <보기>에서 고른 것은?

A 농가는 산지 매집상인 ㉠ B 상인에게 3,300m²의 밭에 심은 배추를 700만 원에 판매하였다. B 상인은 이 배추를 수확하여 ㉡ 중앙 도매 시장으로 가져가 ㉢ 경매를 통해 중도매인인 C 청과에 1,000만 원에 판매하였다. C 청과는 D 김치 공장에 배추를 1,200만 원에 납품하였다.

— <보기> —

ㄱ. ㉠은 수집 기관에 속한다.
 ㄴ. ㉡는 추상적 시장에 속한다.
 ㄷ. ㉢는 최고 가격으로 신청한 자에게 낙찰된다.
 ㄹ. 대량 생산-소량 소비의 유통 경로 유형에 속한다.

- ① ㄱ, ㄴ
- ② ㄱ, ㄷ
- ③ ㄴ, ㄷ
- ④ ㄴ, ㄹ
- ⑤ ㄷ, ㄹ

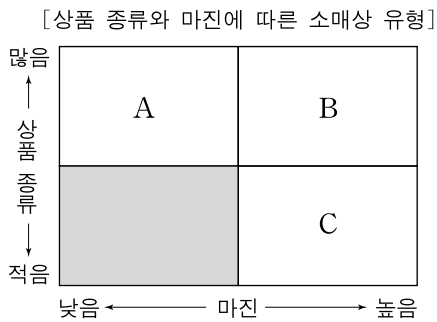
(상업경제)

직업탐구 영역

11. 다음은 소매상의 특성을 설명한 것이다.

- (가) 제한된 종류의 전문품을 취급하는 소매점으로, 고객 서비스 제공 수준이 높다.
- (나) 각종 상품을 부문별로 진열하여 판매하는 대규모 종합 소매점으로, 다양한 상품과 구색을 갖추고 고급스런 시설과 서비스를 제공한다.
- (다) 저렴한 가격으로 대량 판매하는 소매점으로, 설비를 간소화하고 고객 서비스를 줄여 운영비를 절감한다.

위 (가)~(다)에 해당하는 소매상 유형으로 옳은 것을 그림의 A~C에서 고른 것은? [3점]



- | | | | | | | | |
|---|-----|-----|-----|---|-----|-----|-----|
| | (가) | (나) | (다) | | (가) | (나) | (다) |
| ① | A | B | C | ② | A | C | B |
| ③ | B | A | C | ④ | C | A | B |
| ⑤ | C | B | A | | | | |

12. 다음은 수출 계약서의 일부이다. 가격 조건 및 대금 결제 조건을 A에서 B로 변경할 때 나타나는 상황에 대한 설명으로 옳은 것은? (단, 그 외 다른 조건은 동일하며, 가격 조건은 인코텀즈 2000에 의한다.) [3점]

수출 계약서

이 계약은 수출업자인 대한민국 ○○전자(주)와 수입업자인 미국 △△무역(주)의〈중 략〉.....

1. 상품명 : DVD 플레이어
2. 수 량 : 1,000 세트
3. 단 가 : US \$ 200
4. 가격 조건 및 대금 결제 조건

| | | |
|----------|-----------|-----------------|
| | A | B |
| 가격 조건 | FOB Busan | CFR Los Angeles |
| 대금 결제 조건 | 신용장 방식 | 추심 결제 방식(D/A) |

- ① 수출업자는 가격 조건이 유리해진다.
- ② 수출업자는 대금 회수가 더 확실해진다.
- ③ 대금 결제 방식은 지급 인도 조건이 된다.
- ④ 수출업자는 목적항까지 해상 운임을 부담한다.
- ⑤ 상품의 인도 장소는 선적항 본선 선착이 된다.

13. 다음은 물적 유통의 혁신 사례를 나타낸 것이다. (가)에 들어갈 내용으로 가장 적절한 것은?

최근 물적 유통은 산업계의 주요 관심사가 되고 있다. A사는 물류의 각 단계에서 사용되는 기기나 용기, 설비를 표준화하여 화물을 출발지에서 도착지까지 중간 하역 작업 없이 일괄적으로 운송·하역·보관하는 방식을 도입·운영한 결과, 물류비를 25%나 절감할 수 있었다.

이는 (가) 기존의 문제를 개선함으로써 물류 혁신의 성공을 이루어낸 사례라고 할 수 있다.

- ○○신문, 2008년 10월 8일자 -

- ① 화물 추적이 되지 않았던
- ② 물류 정보가 통합되지 않았던
- ③ 물류 배송 센터가 갖추어지지 않았던
- ④ 운송업자, 창고업자 등이 다양한 서식을 사용해 왔던
- ⑤ 규격이 서로 다른 화대(pallet)나 컨테이너를 사용해 왔던

14. 다음은 국제 수지에 대한 수업 장면이다. 선생님의 질문에 대한 대답으로 옳은 것은? [3점]

| | |
|---|---|
| <p style="text-align: center;">A국</p> <ul style="list-style-type: none"> • 상품 수입 증가 • 해외 여행 경비 증가 • 해외에 제공하는 무상 원조 증가 <p style="text-align: center;">B국</p> <ul style="list-style-type: none"> • 해외에서 벌어들인 임금 증가 • 해외에 지급하는 운임 증가 • 해외 직접 투자 증가 | <p>A, B국 사례에서 공통적으로 나타나는 국제 수지 항목은 무엇이며, 그 항목이 국제 수지 증가 요인인지 감소 요인인지 대답해 보세요.</p> |
|---|---|

- ① 소득 수지이고, 국제 수지의 감소 요인입니다.
- ② 투자 수지이고, 국제 수지의 증가 요인입니다.
- ③ 투자 수지이고, 국제 수지의 감소 요인입니다.
- ④ 서비스 수지이고, 국제 수지의 감소 요인입니다.
- ⑤ 서비스 수지이고, 국제 수지의 증가 요인입니다.

15. 다음은 소비자의 기본적 권리 중 일부이다. 밑줄 친 부분에 저촉되는 사례로 가장 적절한 것은?

제 4 조(소비자의 기본적 권리) 소비자는 다음 각 호의 기본적 권리를 가진다.

1. 물품 또는 용역으로 인한 생명·신체 또는 재산에 대한 위해로부터 보호받을 권리
2. 물품 등을 선택함에 있어서 필요한 지식 및 정보를 제공받을 권리

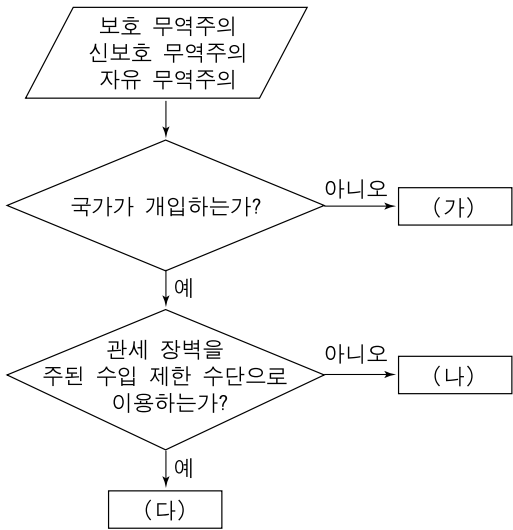
.....〈하 략〉.....

- 소비자 기본법 제 4 조 -

- ① 음식점에서 식사를 한 후 식중독에 걸렸다.
- ② 어린이가 장난감의 품질 불량으로 인해 상해를 입었다.
- ③ 제약 회사의 과장 광고 제품을 구입하여 피해를 입었다.
- ④ 놀이 공원에서 안전 장치 미설치로 인해 부상을 입었다.
- ⑤ 불량 상품에 대하여 판매 회사에 환불 요청을 하였으나 응하지 않았다.

4 직업탐구 영역 (상업경제)

16. 그림은 무역 정책을 국가 개입과 관세 장벽 이용 정도에 따라 구분한 것이다. (가)~(다)에 대한 설명으로 옳은 것은? [3점]



〈보기〉

ㄱ. (가)는 자유 경쟁을 통한 국제 분업을 추구한다.
 ㄴ. (나)는 후진국이 주도한 무역 정책이다.
 ㄷ. (다)는 자국의 유치 산업을 보호한다.
 ㄹ. (가), (나), (다)의 순으로 무역 정책이 진행되었다.

- ① ㄱ, ㄴ ② ㄱ, ㄷ ③ ㄴ, ㄷ ④ ㄴ, ㄹ ⑤ ㄷ, ㄹ

[17~18] 다음은 ○○생명(주)에 대한 조사 보고서이다. 물음에 답하시오.

○○생명(주) 조사 보고서

- 회사명 : ○○생명(주)
- 회사 개요 : 자본금 500억 원의 상장 법인
- 취급 상품 : 질병과 사망으로 인한 손실을 보상하는 보험 상품
- 금융 자산 보유 현황 : 정기 예금 20%, 국·공채 60%,
상장 주식 5%, 기타 15%
- 판매 예정 상품 : 재산의 손해를 보상하는 보험 상품
- 자금 조달 계획 : 유상 증자를 통한 추가 자금 조달

17. 위 보고서의 내용에 대한 설명으로 옳은 것을 <보기>에서 고른 것은? [3점]

〈보기〉

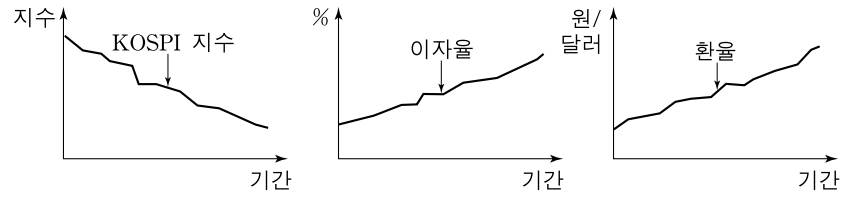
ㄱ. 현재 물보험을 취급하고 있다.
 ㄴ. 추가 자금 조달 시 타인 자본이 증가한다.
 ㄷ. 안정성 위주로 금융 자산을 보유하고 있다.
 ㄹ. 이 회사의 주식은 경매매 방식으로 거래된다.

- ① ㄱ, ㄴ ② ㄱ, ㄷ ③ ㄴ, ㄷ ④ ㄴ, ㄹ ⑤ ㄷ, ㄹ

18. ○○생명(주)가 판매 예정인 보험에 대한 설명으로 옳은 것은? [3점]

- ① 정액 보험에 속한다.
- ② 보험자가 보험금을 청구한다.
- ③ 보험 기간은 대부분 장기이다.
- ④ 보험금은 보험 금액을 초과할 수 없다.
- ⑤ 보험 상품은 주로 저축성 기능을 가지고 있다.

19. 그래프는 경제 지표의 추이를 나타낸 것이다. 이와 같은 추이가 계속된다고 할 때, 나타날 수 있는 현상으로 적절한 것만을 <보기>에서 있는 대로 고른 것은? (단, 지표 외 다른 요인은 고려하지 않는다.) [3점]

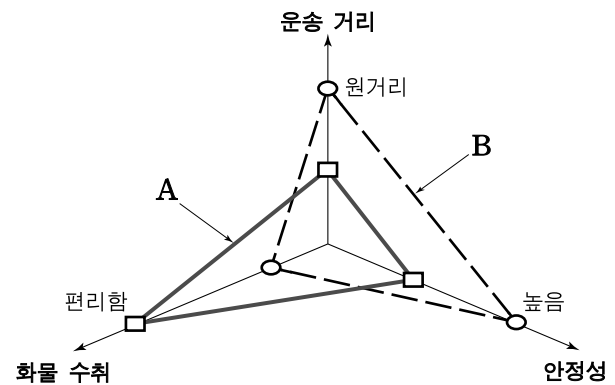


〈보기〉

ㄱ. KOSPI 지수 추이를 볼 때, 기업은 주식 시장을 통한 자본 조달이 어려워질 것이다.
 ㄴ. 이자율 추이를 볼 때, 은행을 통한 기업의 대출 수요가 증가할 것이다.
 ㄷ. 환율 추이를 볼 때, 수출 제품의 가격 경쟁력이 강화될 것이다.

- ① ㄱ ② ㄴ ③ ㄱ, ㄷ
 ④ ㄴ, ㄷ ⑤ ㄱ, ㄴ, ㄷ

20. 그래프는 육상 운송을 세 가지 기준으로 비교하여 구분한 것이다. A, B 운송에 대한 설명으로 옳은 것을 <보기>에서 고른 것은?



〈보기〉

ㄱ. A는 door-to-door 운송에 적합하다.
 ㄴ. A에는 화물 상환증, B에는 선화 증권이 이용된다.
 ㄷ. B는 A보다 대량 화물 운송에 적합하다.
 ㄹ. B는 A보다 기후 영향을 더 많이 받는다.

- ① ㄱ, ㄴ ② ㄱ, ㄷ ③ ㄴ, ㄷ ④ ㄴ, ㄹ ⑤ ㄷ, ㄹ

* 확인 사항
 ○ 답안지의 해당란에 필요한 내용을 정확히 기입(표기)했는지 확인하시오.